




メイクユース算数5年

学習日 月 日

12	「単位量あたり」 コショウ	年 組 番 名前 ()
----	------------------	-----------------

じろうさんは、スーパーでコショウを買ってくるように、おつかいをたのまれました。店のたなには、3つのメーカーの品がならんでおり、それぞれに入っているコショウの重さもねだんもちがいます。ちなみに家の人からは、300円あずかってきています。

G社 	H社 	S社 
135円 15g	110円 8.5g	260円 20g

入っているコショウの重さに対するねだんが、一番安い品を買います。G社・H社・S社の中のどのメーカーの品を買うとよいか、下の()に書きましょう。また、そう考えた理由を、言葉や式を使って書きましょう。() 社

理由

ここから下は先生がチェックをします。(どちらかあてはまるほうに必ず☑)

- 自分の考えを分かりやすくかけています。より分かりやすくかけるように努力しよう。
- 自分の考えをかこうとがんばっています。その態度が素晴らしい。つづけよう。