





メイクユース算数5年

学習日 月 日

18	<small>おりあい</small> 「割合」 <small>べんとう</small> 弁当	年 組 番 名前 ()
----	------------------------------------------------------------------------	-----------------

あつ子さんの町には、おいしい弁当（東店）とおいしい弁当（西店）の2けんの弁当屋さんがあります。それぞれの弁当屋さんでは、同じ弁当が同じ定価ていかで売られています。

コロッケ弁当 380円 	さけ弁当 320円 	とんかつ弁当 450円 	えびフライ弁当 430円 
-------------------------------------------------------------------------------------------------------------------	-----------------------------------------------------------------------------------------------------------------	--------------------------------------------------------------------------------------------------------------------	----------------------------------------------------------------------------------------------------------------------

どちらの店も、日曜日の特売日ないようにしていて、それぞれのサービス内容は次の通りです。

東 店

**すべての弁当を2割引に
します。**

西 店

**350円より高い弁当は
すべて350円にします。**

日曜日に、上の4種類の弁当をそれぞれ1個ずつ買います。どちらの店で買うと安く買えるでしょう。安く買えるほうの店の名前を答え、そう考えた理由を式と言葉でかきましょう。

店の名前	
理 由	

ここから下は先生がチェックをします。（どちらかあてはまるほうに必ず☑）

- 自分の考えを分かりやすくかけています。より分かりやすくかけるように努力しよう。
- 自分の考えをかこうとがんばっています。その態度がすばらしい。つづけよう。