













# メイクユース算数4年

学習日 月 日

1	「あまりのあるわり算」 十二支	年 組 番	名前 ( )
---	--------------------	-------	--------

2019年は、いのししどしです。2031年には、また、いのししどしがめぐってきます。ひろしさんは、次の十二支の絵と年のうつりかわりを見ています。

	亥	子	丑	寅	卯	辰
...						
	2019	2020	2021	2022	2023	2024
	巳	午	未	申	酉	戌
						 ...
	2025	2026	2027	2028	2029	2030

(1) 2024年の次に、たつどしがめぐってくるのは何年でしょう。

答え	年
----	---

(2) 2050年は何どしになるでしょうか。また、そう考えた理由もかきましょう。(むずかしい漢字は、ひらがなで書いてもかまいません。)

2050年は、(                      )どしになる
理由

ここから下は先生がチェックをします。(どちらかあてはまるほうに必ず☑)

- 自分の考えを分かりやすくかけています。より分かりやすくかけるように努力しよう。
- 自分の考えをかこうとがんばっています。その態度がすばらしい。つづけよう。