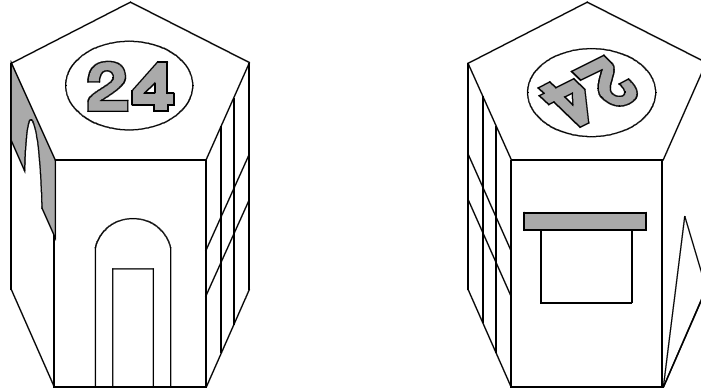


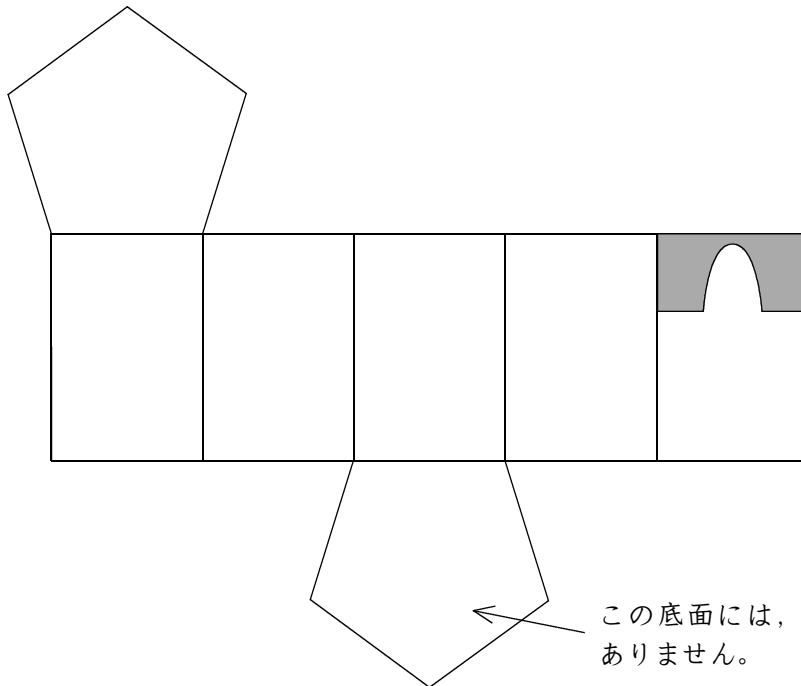

25	「角柱」	名前 ()	年	組	番
	模型				

次の2つの図は、同じ模型を別の方向から見たものです。



同じ模型を、下の展開図を組み立てて作ろうとしています。上と同じ模型になるように、展開図にもようをかきましょう。

ただし、それぞれの面を正面から見たもようは次のとおりです。



この底面には、もようはありません。

ここから下は先生がチェックをします。(どちらかあてはまるほうに必ず☑)

- 自分の考えを分かりやすくかけています。より分かりやすくかけるように努力しよう。
- 自分の考えをかこうとがんばっています。その態度がすばらしい。つづけよう。