

# 解答用紙

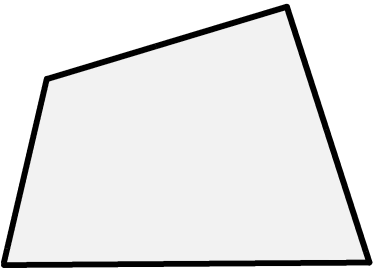
第4学年 組 番 名前

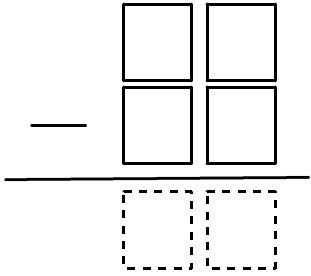
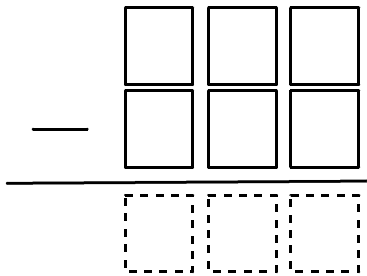
1	(1)	①	こ	1
		②	m	2
		③	m	3
	(2)		4	

2	(1)		5
	(2)	cm	6
	(3)		7

3	(1)	①		8
		②		9
	(2)	㊦		
		㊧		
		㊨		10
	(3)	のりんごが	g 重い	11

4	(1)		12
	(2)	だいちさんの ( ) 曜日と	
		ゆりさんの ( ) 曜日	
	(3)	①	倍
②		倍	15

5	(1)			16
	(2)	①		
		②		17
③			18	

6	(1)		19
	(2)		20
	(3)	ひきざんの答えをできるだけ大きい数にするためには、 <div style="border: 1px dashed black; height: 100px; width: 100%;"></div> とよいですね。	21