

2 あいりさんたちは、角柱や円柱に紙をはろうとしています。

(1) 図1の三角柱は、底面が正三角形です。

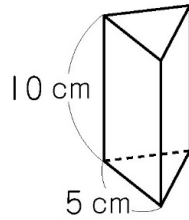


図1

正三角形の紙 () 枚

長方形の紙 () 枚

図1の底面には下の正三角形の紙をはり、図1の側面には下の長方形の紙をはります。

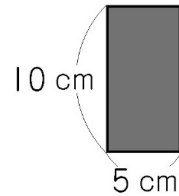
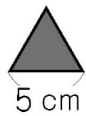


図1のすべての面に1枚ずつ紙をはるとき、正三角形の紙と長方形の紙はそれぞれ何枚必要ですか。

答えを書きましょう。