


小4算数⑤

氏名

／ 5問

■ たくみさんとみかさんは、下の図のようにおはじきをならべて正方形をつくり、正方形の1辺にならぶおはじきのこ数とまわりにならんだおはじき全部のこ数の関係について調べています。次の(1)~(4)の問題に答えましょう。



(1) たくみさんは、正方形の1辺にならぶおはじきのこ数とならんだおはじき全部のこ数を表にまとめました。

1辺にならぶおはじきのこ数 (こ)	2	3	4	5	6
まわりにならんだおはじき全部のこ数 (こ)	4	あ	い	う	え

① 表のあ~えにあてはまる数を書きましょう。

あ

い

う

え

② みかさんはこの表を見て、次のことに気がつきました。



みか

1辺にならぶおはじきが1こふえると、まわりにならんだおはじき全部のこ数は こふえます。

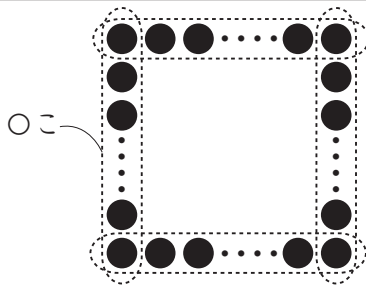
みかさんの発言の にあてはまる数を書きましょう。

たくみさんとみかさんとは、正方形の1辺にならぶおはじきのご数を○こ、まわりにならんだおはじき全部のご数を△ことして、○と△の関係を式に表しました。

(2) たくみさんは次のように考えました。たくみさんの考えをもとにして、○と△の関係を表す式を書きましょう。

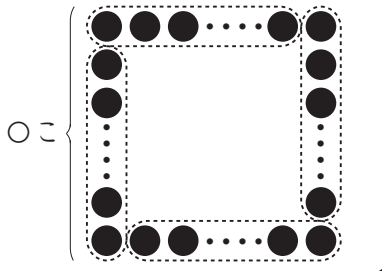
たくみさんの考え

正方形のまわりの長さ = 1辺の長さ × 4 で求められますが、おはじきをならべた場合は、右の図のように4つのかどのおはじきが、重ねて数えられてしまいます。だから、重なったおはじきのご数をひけば求められます。



みか

わたしは、右の図を参考にして、
 $\Delta = (\text{○} - 1) \times 4$ という式をたてました。



(3) みかさんはどのように考えましたか。みかさんの考えを言葉や式を使って書きましょう。

(4) 正方形の1辺にならぶおはじきのご数が20このとき、まわりにならんだおはじき全部のご数は何こですか。たくみさん、みかさんのどちらかの考え方を使って、式と答えを書きましょう。

式

答え こ