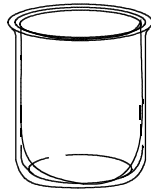


# メイクユース算数3年

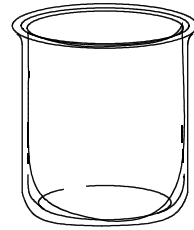
学習日 月 日

2	「かさ」 はかり方1	年 組 番
		名前 ( )

水を300 mLはかることのできるコップと、500 mLはかることのできるコップが1つずつあります。

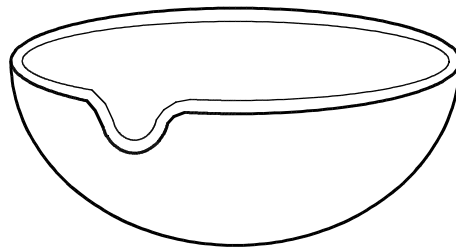


300 mL



500 mL

この2つのコップを使って、下の大きなボールに700 mLちょうどの水をはかりとる方法を考えて書きましょう。



考え方

ここから下は先生がチェックをします。(どちらかあてはまるほうに必ず☑)

- 自分の考えを分かりやすくかけています。より分かりやすくかけるように努力しよう。
- 自分の考えをかこうとがんばっています。その態度がすばらしい。つづけよう。