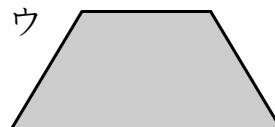
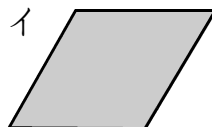
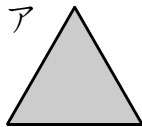


メイクユース算数3年

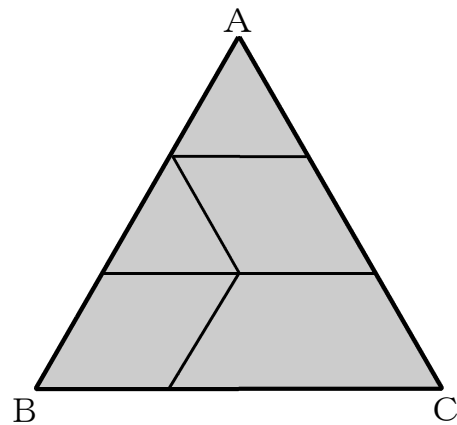
学習日 月 日

5	「しきつめ」 色板 <small>いた</small>	名前 (年 組 番)
---	--------------------------------	--------------

ひろしさんは、色板を組み合わせて、図形を作ります。アの色板は、1辺が4cmの正三角形です。イの色板は、アを2つあわせた形で、ウの色板は、アを3つあわせた形です。



ひろしさんは、ア、イ、ウの3種類しゅるいの色板いたを組み合わせて、右のような図形を作りました。右の図形の名前を**1**から**5**までの中から**1つ**選んで、その番号ばんごうを書きましょう。また、その番号を選んだ理由りゆうを、言葉と数を使って書きましょう。説明には、図を利用してもかまいません。



- | | |
|--------------|---|
| 1 正方形 | 2 二等辺三角形 <small>どうへんかくけい</small> |
| 3 ひし形 | 4 正三角形 |
| 5 台形 | |

番 号		
理 由		

ここから下は先生がチェックをします。(どちらかあてはまるほうに必ず☑)

自分の考えを分かりやすくかけています。より分かりやすくかけるように努力しよう。

自分の考えをかこうとがんばっています。その態度がすばらしい。つづけよう。