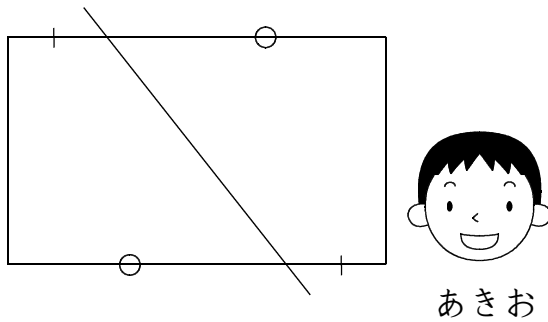

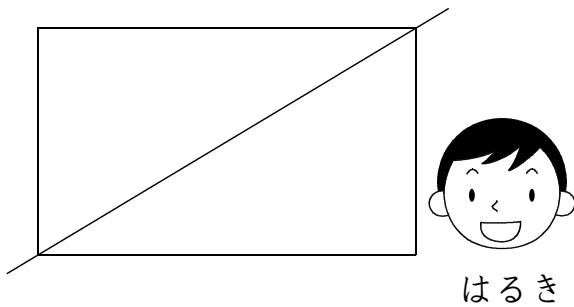


6	「面積」 土地	年 組 番
		名前 ( )

はるきさん、なつみさん、あきおさんの3人は、長方形の土地を同じ面積になるように2つに分けるために、次のように1本の直線をかきました。



3人の分け方を参考にして、今度は、次のような長方形を組み合わせたL字型の土地に1本の直線をかいて、同じ面積になるように2つに分けましょう。

考え方

ここから下は先生がチェックをします。(どちらかあてはまるほうに必ず☑)

- 自分の考えを分かりやすくかけています。より分かりやすくかけるように努力しよう。
- 自分の考えをかこうとがんばっています。その態度がすばらしい。つづけよう。