


メイクユース算数5年


学習日 月 日

7	「平均」 身長	年 組 番 名前 ()
---	------------	-----------------


おじいさんの身長は、165 cmです。よしおさんとあけみさんの2人の身長の平均は150 cmでした。



おじいさん



よしお



あけみ

この3人の身長の平均を求めるとすると、求める式は、次のAとBのどちらが正しいでしょうか。正しい式の方の記号を選び、その理由を数や言葉を使って書きましょう。

A	$(165 + 150) \div 2$
B	$(165 + 150 \times 2) \div 3$

記号		
理由		

ここから下は先生がチェックをします。(どちらかあてはまるほうに必ず☑)

- 自分の考えを分かりやすくかけています。より分かりやすくかけるように努力しよう。
- 自分の考えをかこうとがんばっています。その態度がすばらしい。つづけよう。