



13	「分数」	名前 ()	年	組	番
	音ぷ				


音楽の時間に音ぷの勉強をしました。

 の長さを 1 とすると、
  = $1 \frac{1}{2}$ になります。

(・ は、付点といい、前の音ぷの半分の長さをしめします。)

また、 = $\frac{1}{2}$ 、  = $\frac{1}{4}$ の長さになります。


(1) 下の音ぷを合わせると、どれだけの長さになりますか。

 ()

(2) 勉強した音ぷの仕組みをもとに、次の音ぷの長さを求め、そう考えた理由を、音ぷや言葉や式を使って書きましょう。



長さ	理由

(3)  の長さを 1 とした場合、下の音ぷを合わせると、どれだけの長さになりますか。

 ()

ここから下は先生がチェックをします。(どちらかあてはまるほうに必ず☑)

- 自分の考えを分かりやすくかけています。より分かりやすくかけるように努力しよう。
- 自分の考えをかこうとがんばっています。その態度がすばらしい。つづけよう。